



生活数学




五年级
上册

培智学校义务教育实验教科书

生活数学

五年级上册

人民教育出版社 课程教材研究所
特殊教育课程教材研究中心 编著



人民教育出版社

·北京·

总主编：朱志勇 刘全礼
本册主编：王旭刚 苏 洁
编写人员：周 琳 谢李杉 钟 敏 郝宗群
 陈银花 陈韵竹 周 莉 朱春柳
责任编辑：周 琳
美术编辑：史 越

培智学校义务教育实验教科书 生活数学 五年级 上册

人民教育出版社 课程教材研究所 编著
特殊教育课程教材研究开发中心

出版发行 人民教育出版社
 (北京市海淀区中关村南大街 17 号院 1 号楼 邮编 100081)

网 址 <http://www.pep.com.cn>

经 销 全国新华书店

印 刷 × × × 印刷厂

版 次 2021 年 7 月第 1 版

印 次 2021 年 7 月第 1 次印刷

开 本 787 毫米 × 1092 毫米 1/16

印 张

字 数 千字

书 号 ISBN 978-7-107- -

定 价 元

价格依据文件号：京发改规 [2016] 13 号

版权所有·未经许可不得采用任何方式擅自复制或本产品任何部分·违者必究
如发现内容质量问题，请登录中小学教材意见反馈平台：jcyjfk.pep.com.cn
如发现印、装质量问题，影响阅读，请与本社联系。电话：400-810-5788

亲爱的同学们，给你们介绍四位好朋友，他们是天天、兰兰、贝贝和乐乐，让我们先来认识一下！



天天



兰兰



贝贝



乐乐

下面咱们跟他们一起学习生活数学。

让我们开始吧！

目录



1 20 以内的退位减法 1

2 20 以内的连加、连减和
加减混合运算 33



3 认识图形（五） 44

综合与实践 52

★ 20 元以内人民币的计算 54



★ 图形的分类 57

4 总复习 60

1 20 以内的退位减法



十几减9

15个蛋糕，买走9个，还剩下几个？

$$15 - 9 = \square$$



$$15 - 9 = 6$$



$$15 - 9 = 6$$

Diagram illustrating the '10 and 5' strategy: 15 is split into 10 and 5. 10 minus 9 equals 1. 1 plus 5 equals 6.



想：把15分成10和5

$$10 - 9 = 1$$

$$1 + 5 = 6$$



做一做

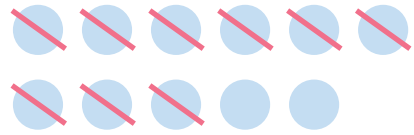
1. 数一数，填一填。



$$17 - 9 = \square$$

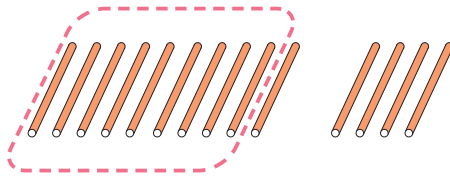


$$12 - 9 = \square$$



$$11 - \square = \square$$

2. 数一数，算一算。



$$14 - 9 = \square$$



$$13 - 9 = \square$$

3. 想一想，填一填。



桌上有16块积木，兰兰拿走了9块，还剩下几块？

$$16 - 9 = \square$$



练一练

1. 数一数，填一填。



$$11 - 9 = \square$$



$$14 - \square = \square$$



$$\square - \square = \square$$



$$\square - \square = \square$$

2. 填一填，算一算。


$$15 - 9 = \square$$

$$16 - 9 = \square$$

$$17 - 9 = \square$$

$$18 - 9 = \square$$


3. 帮小动物回家。



4. 看图完成算式。



$$15 - 9 = \square$$



$$17 - \square = \square$$

$$\square - \square = \square$$



5. 算一算，填一填。

11	- 9 =	
12		
13		
14		

18	- 9 =	
17		
16		
15		

6. 填一填。

被减数	10	12	14	16	18	19
减数	9	9	9	9	9	9
差						

● 十几减8



16个猕猴桃，吃掉8个，还剩下几个？

$$16 - 8 = \square$$



$$16 - 8 = 8$$



$$16 - 8 = 8$$



想：把16分成10和6


$$10 - 8 = 2$$

$$2 + 6 = 8$$



做一做

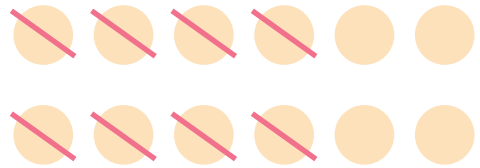
1. 数一数，填一填。



$13 - 8 = \square$

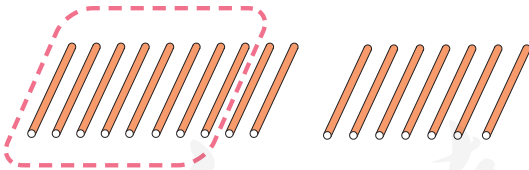


$14 - \square = \square$

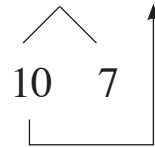


$\square - \square = \square$

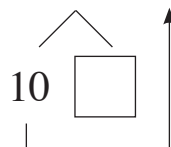
2. 数一数，算一算。



$17 - 8 = \square$



$15 - 8 = \square$



3. 想一想，填一填。



17块饼干，吃掉8块，还剩下几块？

$$\square - \square = \square$$



练一练

1. 数一数，填一填。

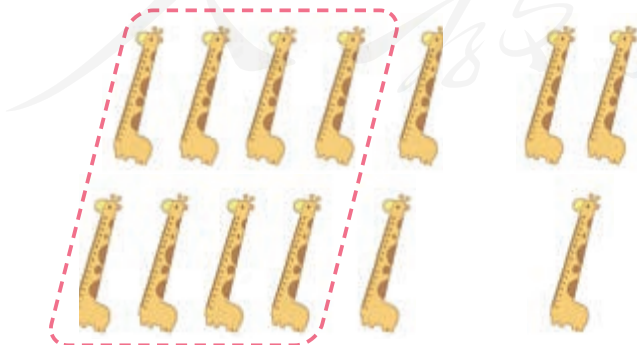


$$11 - 8 = \square$$



$$12 - \square = \square$$

2. 数一数，算一算。

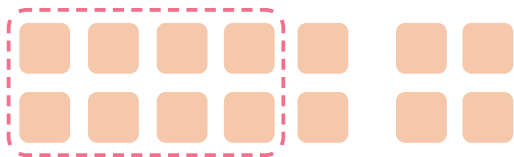


$$13 - 8 = \square$$

10

□

\uparrow
 \square




$$14 - \square = \square$$

10

3. 划一划，填一填。



$$14 - 8 = \square$$

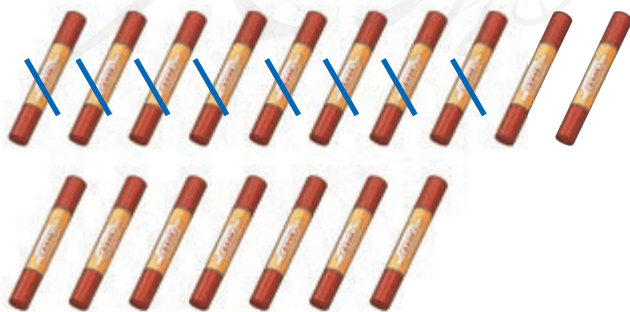


$$\square - 8 = \square$$

4. 算一算，连一连。




5. 看图完成算式。



$$17 - 8 = \square$$

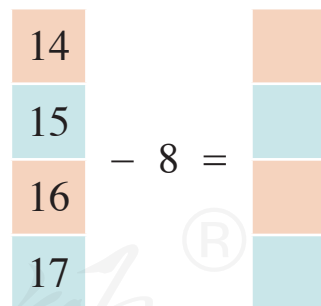
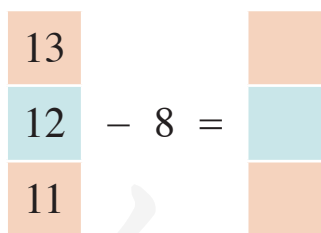


$$15 - \square = \square$$



$$\square - \square = \square$$

6. 算一算，填一填。



7. 算一算。

$$13 - 8 = \square$$

$$16 - 8 = \square$$

$$11 - 8 = \square$$

$$11 - 9 = \square$$

$$14 - 9 = \square$$

$$14 - 8 = \square$$

$$15 - 8 = \square$$

$$12 - 8 = \square$$

$$17 - 8 = \square$$

十几减7

12盒牛奶 ，喝掉7盒，还剩下几盒？



$$12 - 7 = 5$$



$$12 - 7 = 5$$

10 2

3



想：把12分成10和2

$$10 - 7 = 3$$

$$3 + 2 = 5$$



做一做


1. 数一数，填一填。



$$15 - 7 = \square$$

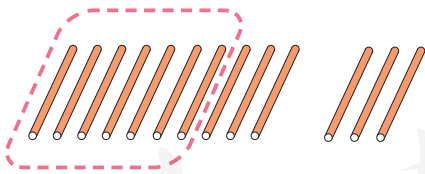


$$11 - 7 = \square$$

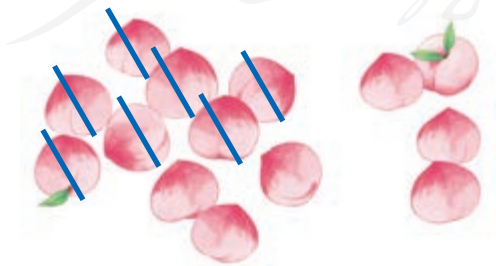


$$12 - \square = \square$$

2. 数一数，算一算。



$$13 - 7 = \square$$



$$14 - 7 = \square$$

3. 想一想，填一填。



书桌上有16本书，拿走7本，还剩下几本？

$$\square - \square = \square$$




练一练

1. 数一数，填一填。




$$11 - \square = \square$$



$$\square - 7 = \square$$



$$\square - \square = \square$$



$$\square - \square = \square$$

2. 填一填，算一算。

$$13 - 7 = \square$$

$$15 - 7 = \square$$

3. 装苹果。




4. 算一算，填一填。

11	
12	- 7 =
13	

14	
15	- 7 =
16	

5. 找座位。



6. 算一算。

$11 - 9 = \square$

$13 - 9 = \square$

$15 - 9 = \square$

$11 - 8 = \square$

$13 - 8 = \square$


$15 - 8 = \square$

$11 - 7 = \square$

$13 - 7 = \square$

$15 - 7 = \square$

● 十几减6、5



一共有11只猫，白猫  有6只，花猫  有几只？

$$11 - 6 = \square$$



$$\begin{array}{r} 11 - 6 = 5 \\ \swarrow \quad \searrow \\ 10 \quad 1 \\ \underbrace{\hspace{1.5cm}} \quad \uparrow \\ 4 \end{array}$$

一共有11只猫，花猫  有5只，白猫  有几只？

$$11 - 5 = \square$$



$$\begin{array}{r} 11 - 5 = 6 \\ \swarrow \quad \searrow \\ 10 \quad 1 \\ \underbrace{\hspace{1.5cm}} \quad \uparrow \\ 5 \end{array}$$



还可以怎样算？




做一做

1. 数一数，填一填。

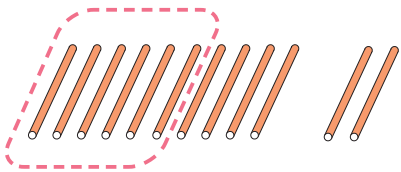


$$14 - 6 = \square$$



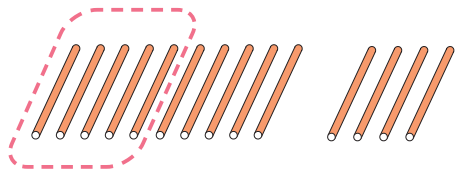
$$13 - \square = \square$$

2. 摆一摆，算一算。



$$12 - 6 = \square$$

$\begin{array}{c} \diagup \quad \diagdown \\ 10 \quad 2 \\ \diagdown \quad \diagup \\ \square \end{array}$



$$14 - 5 = \square$$

$\begin{array}{c} \diagup \quad \diagdown \\ 10 \quad 4 \\ \diagdown \quad \diagup \\ \square \end{array}$



$$13 - \square = \square$$

$\begin{array}{c} \diagup \quad \diagdown \\ 10 \quad \square \\ \diagdown \quad \diagup \\ \square \end{array}$

3. 想一想，填一填。



$$12 - 5 = \square$$

$$12 - 7 = \square$$



练一练

1. 数一数，填一填。




$$14 - 6 = \square$$



$$11 - \square = \square$$

2. 看图完成算式。




$$13 - 6 = \square$$

$$13 - 7 = \square$$



$$14 - \square = \square$$

$$14 - \square = \square$$



$$11 - \square = \square$$

$$11 - \square = \square$$



$$\square - \square = \square$$

$$\square - \square = \square$$

3. 送快递。



4. 算一算，填一填。

(1)

11
12
13

 $- 5 =$

13
14
15

 $- 6 =$

(2)

13-	}	$5 =$ <input type="text"/>
		$6 =$ <input type="text"/>
		$7 =$ <input type="text"/>

14-	}	$8 =$ <input type="text"/>
		$6 =$ <input type="text"/>
		$5 =$ <input type="text"/>

5. 算一算。

$14 - 6 =$

$12 - 5 =$

$5 + 8 =$

$12 - 7 =$

$5 + 7 =$

$13 - 5 =$

$6 + 8 =$

$13 - 8 =$

$14 - 8 =$

6. 挂帽子。



● 十几减4、3、2



一共有11张彩纸，兰兰用了4张彩纸，还剩下多少张彩纸？

$$11 - 4 = 7$$



$$11 - 4 = 7$$



想：把11分成10和1

$$10 - 4 = 6$$

$$1 + 6 = 7$$

一共有11张彩纸，贝贝用了3张彩纸，还剩下多少张彩纸？

$$11 - 3 = 8$$



$$11 - 3 = 8$$

10 1
7



想：把11分成10和1

$$10 - 3 = 7$$

$$1 + 7 = 8$$

一共有11张彩纸，天天用了2张彩纸，还剩下多少张彩纸？

$$11 - 2 = 9$$



$$11 - 2 = 9$$

10 1
8



想：把11分成10和1

$$10 - 2 = 8$$

$$1 + 8 = 9$$



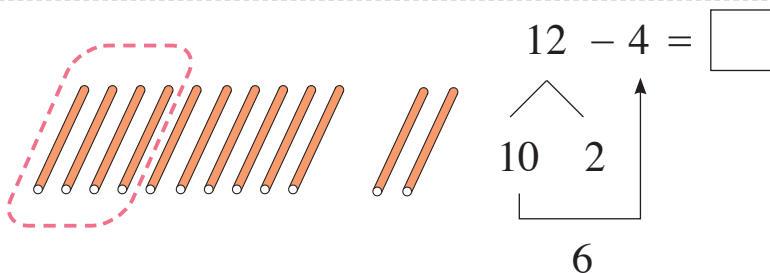
做一做

1. 数一数，填一填。



2. 数一数，算一算。

$$11 - 3 = \square$$



3. 妈妈买了12个橘子🍊，乐乐吃了3个，还剩下多少个？

$$12 - \square = \square$$

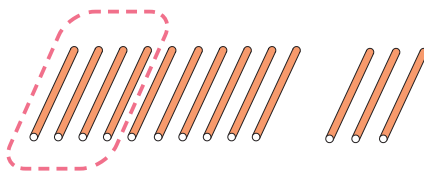


练一练

1. 数一数，填一填。




$$\square - \square = \square$$



$$\square - \square = \square$$

2. 白鸽送信。



3. 算一算，填一填。

$$11 - \begin{cases} 2 = \square \\ 3 = \square \\ 4 = \square \end{cases}$$


$$12 - \begin{cases} 3 = \square \\ 4 = \square \\ 5 = \square \end{cases}$$

4. 看图完成算式。




$$8 + 4 = \square \quad 4 + 8 = \square \quad 9 + 2 = \square \quad \square + \square = \square$$

$$12 - 4 = \square \quad 12 - 8 = \square \quad 11 - 9 = \square \quad \square - \square = \square$$

5. (1) 体育器材室有13个皮球 ，乐乐借走了4个，还剩下多少个？

$$\square - \square = \square$$

(2) 体育器材室有12个羽毛球 ，兰兰借走了3个，还剩下多少个？

$$\square - \square = \square$$



知道了什么？

蓝珠子●有（ ）颗，
红珠子●有（ ）颗。



要解决的问题是：蓝珠子●
比红珠子●多几颗？




怎样解答？

摆一摆，比一比。



蓝珠子●多，红珠子●
少，用减法计算。





$$15 - 9 = 6$$

怎样回答？



蓝珠子●比红珠子●多（ ）颗。



知道了什么?

黄珠子  有 () 颗,
蓝珠子  有 () 颗。




要解决的问题是：黄珠子  比蓝珠子  少几颗?



怎样解答?

摆一摆，比一比。



黄珠子  少，蓝珠子  多，用减法计算。



$$15 - 7 = 8$$

怎样回答?



黄珠子  比蓝珠子  少 () 颗。




做一做

1. 比一比，填一填。







 比  多几个?

$$12 - 4 = \square$$



 比  少几个?

$$16 - 9 = \square$$

2.  有 13 只， 有 4 只， 比  多几只?

$$\square - \square = \square$$



练一练

1. 比一比，填一填。



🍅 比 🍆 少几个？

$$11 - 3 = \square$$



果汁 🍹 比牛奶 🥛 多几盒？

$$14 - 8 = \square$$

2.



我得到了11个



我得到了4个



❤️ 比 ★ 多几个？ $\square - \square = \square$

3. 🐱 有12只，🐶 有7只，🐶 比 🐱 少几只？

$$\square - \square = \square$$

4.



(1) 茄子 🍆 比白萝卜 🍒 多几根？

$$\square - \square = \square$$

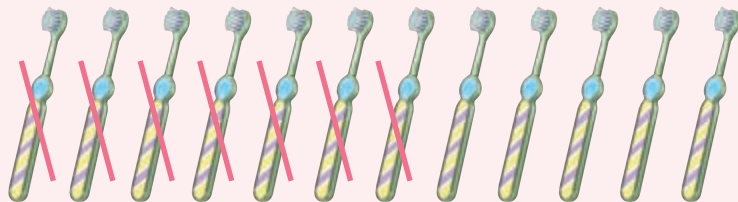


(2) 白萝卜 🍒 比胡萝卜 🍷 少几根？

$$\square - \square = \square$$

我学会了

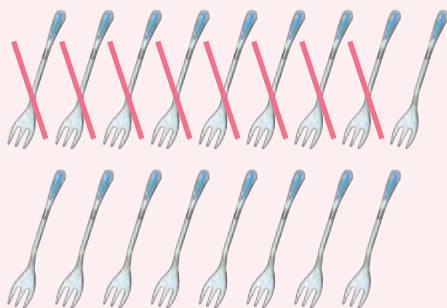
1. 数一数，填一填。



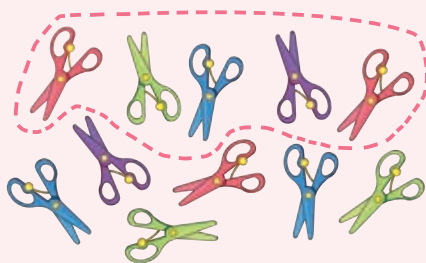
$$12 - 7 = \square$$



$$13 - \square = \square$$



$$\square - \square = \square$$



$$\square - \square = \square$$

2. 划一划，填一填。




$$11 - 7 = \square$$



$$\square - 4 = \square$$



$$\square - 8 = \square$$



$$\square - 3 = \square$$

3. 看图完成算式。




$$9 + \square = \square$$

$$\square + \square = \square$$



$$15 - \square = \square$$

$$\square - \square = \square$$



$$\square + \square = \square$$

$$\square \bigcirc \square \bigcirc \square$$



$$\square - \square = \square$$

$$\square \bigcirc \square \bigcirc \square$$

4. 连一连。

$$11 - 6$$

$$12 - 8$$

$$9 - 5$$

$$12 - 7$$

6

4

5


$$13 - 9$$

$$14 - 8$$

$$8 - 3$$

$$13 - 7$$

5.



 比  多几个?

$$12 - 4 = \square$$

 比  少几个?



$$\square - \square = \square$$

6.



(1) 一共有 () 只 ，飞走了 () 只，还剩下几只?

$$\square \bigcirc \square \bigcirc \square$$

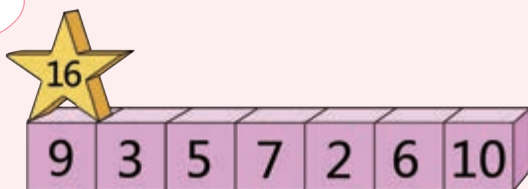
(2) 一共有 () 头牛， 有 () 头， 有几头?

$$\square \bigcirc \square \bigcirc \square$$

7. 移动★¹⁶，每次从16中减去积木块上的数。



$$16 - 9 = 7$$



8. 填一填。

被减数	14	12	17	11	18	13
减数	7	5	8	3	9	4
差						

9. (1) 有13颗🍎，吃掉了6颗，还剩下几颗？

$$\square - \square = \square$$

(2) 🌂和🌂一共有15把，🌂有8把，🌂有几把？

$$\square \bigcirc \square = \square$$

10. 算一算。


$$12 - 3 = \square \quad 14 - 6 = \square \quad 11 - 3 = \square \quad 13 - 7 = \square$$

$$15 - 9 = \square \quad 17 - 9 = \square \quad 12 - 4 = \square \quad 16 - 8 = \square$$

$$13 - 8 = \square \quad 11 - 4 = \square \quad 15 - 7 = \square \quad 14 - 0 = \square$$

2

20 以内的连加、连减和 加减混合运算



20以内的连加

一共有几支棒棒糖？



$$3 + 5 + 4 = 12$$

$\underbrace{\quad\quad}_8$



想：先算 $3 + 5 = 8$
再算 $8 + 4 = 12$



做一做

看图完成算式。



$$6 + \square + \square = \square$$

$$\square + \square + \square = \square$$

练一练

1. 看图完成算式。



$$8 + \square + \square = \square$$

Diagram showing a bracket under the first two terms and a smaller bracket under the second term, both pointing to a box below.



$$\square + \square + \square = \square$$

Diagram showing a bracket under the first two terms and a smaller bracket under the second term, both pointing to a box below.

2. 连一连。

$5+6+6$

$7+4+8$

$3+9+2$

14

17

19

$2+7+6$

$1+8+7$


$0+4+9$

16

13


15

3.



$$\square + \square + \square = \square$$

20 以内的连减



$$11 - 3 - 2 = 6$$

A diagram illustrating the steps of the subtraction. A bracket under '11' and '3' points to '8'. Another bracket under '8' and '2' points to '6'.



想：先算 $11 - 3 = 8$
再算 $8 - 2 = 6$



做一做

看图完成算式。



$$13 - \square - \square = \square$$



练一练

1. 看图完成算式。



$$12 - \square - \square = \square$$

Diagram showing arrows from the first and second boxes to a third box below, indicating the sum of the two subtractions.

2. 填一填。

$$14 - 6 - 5 = \square$$

Diagram showing arrows from the 6 and 5 boxes to a box below, indicating the sum of the two subtractions.

$$17 - 5 - 8 = \square$$

Diagram showing arrows from the 5 and 8 boxes to a box below, indicating the sum of the two subtractions.

$$12 - 4 - 7 = \square$$

Diagram showing arrows from the 4 and 7 boxes to a box below, indicating the sum of the two subtractions.

$$18 - 6 - 2 = \square$$

Diagram showing arrows from the 6 and 2 boxes to a box below, indicating the sum of the two subtractions.

3. 算一算。

$14 - 2 - 8 = \square$

$17 - 9 - 1 = \square$

$11 - 5 - 3 = \square$

$13 - 0 - 7 = \square$

$16 - 6 - 2 = \square$

$19 - 3 - 7 = \square$


$15 - 7 - 7 = \square$

$14 - 8 - 0 = \square$

$18 - 8 - 9 = \square$

3

20 以内的加减混合运算



$$\begin{array}{r} 8 + 4 - 5 = 7 \\ \square \quad \uparrow \\ 12 \end{array}$$



想：先算 $8 + 4 = 12$

再算 $12 - 5 = 7$



做一做

连一连。

5

6

9

10

$5+7-3$

$12+2-8$

$9+8-7$

$14+0-9$



练一练

1. 看图完成算式。



$$11 - \square + \square = \square$$

2. 填一填。

$$13 + 6 - 8 = \square$$

Diagram showing the order of operations: a bracket under 13 and 6 points to a box, and an arrow from that box points to the minus sign. Another bracket under 6 and 8 points to a box, and an arrow from that box points to the minus sign.

$$4 + 9 - 6 = \square$$

Diagram showing the order of operations: a bracket under 4 and 9 points to a box, and an arrow from that box points to the minus sign. Another bracket under 9 and 6 points to a box, and an arrow from that box points to the minus sign.

$$9 - 5 + 7 = \square$$

$$17 - 6 + 2 = \square$$

3. 算一算。

$11 - 7 + 3 = \square$

$7 + 9 - 8 = \square$

$14 - 10 + 5 = \square$

$10 + 0 - 4 = \square$

$6 + 6 - 3 = \square$

$9 + 2 - 8 = \square$

$5 + 9 - 0 = \square$

$14 - 8 + 4 = \square$

$4 + 7 - 2 = \square$

4.



地上原来有11颗 ， 拿走了2颗，树上又掉下了5颗，最后地上有几颗？

$$\square \bigcirc \square \bigcirc \square = \square$$

5. 公共汽车上原来有12人，在动物园站有5人下车，有3人上车，这时公共汽车上有几人？


$$\square - \square + \square = \square$$

我学会了

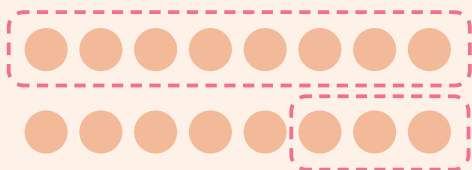
1. 看图完成算式。



$$4 + 3 + 5 = \square$$




$$\square - \square - \square = \square$$



$$\square - \square - \square = \square$$




$$\square + \square + \square = \square$$



$$\square + \square - \square = \square$$

2.



(1) 路边有4辆 , 5辆 , 2辆 , 一共有几辆自行车?

$$\square + \square + \square = \square$$

(2) 骑走了3辆自行车, 又骑走了5辆自行车, 现在还剩下几辆自行车?

$$\square - \square - \square = \square$$

3.



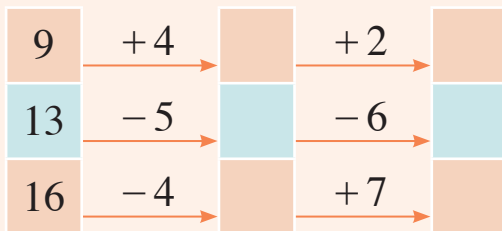
图书角有17本书, 贝贝借走3本, 兰兰还回5本, 图书角现在有几本书?

$$\square \bigcirc \square \bigcirc \square = \square$$

4. 连一连。

$9+5-7$	9	$2+8+5$
$17-9+1$	7	$17-3-4$
$15+4-9$	15	$14-6-1$
$8-2+9$	10	$11+3-5$

5. 填一填。



6.  有4只,  有7只,  有6只, 一共有几只气球?

$$\square + \square + \square = \square$$

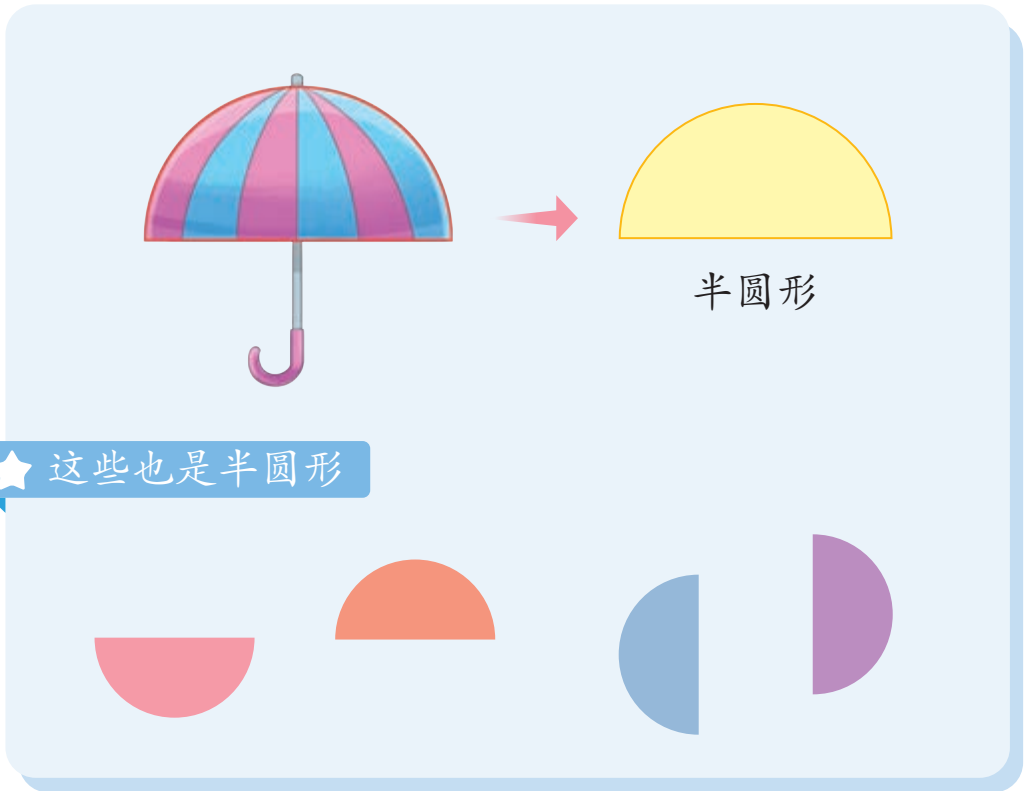
7. 算一算。

$2+5+6=\square$	$12-0-7=\square$	$14-9+7=\square$
$7+7-9=\square$	$0+9+4=\square$	$13-7+4=\square$
$14-5+2=\square$	$12+3-5=\square$	$9+7-3=\square$

3 认识图形（五）



认识半圆形



做一做

找一找含有半圆形的物品。



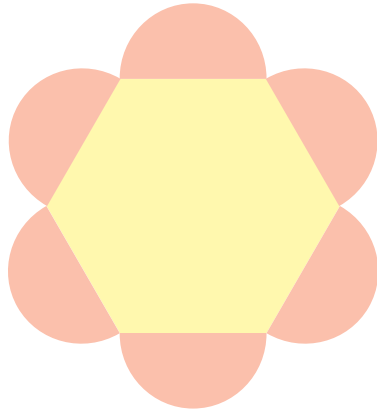


练一练

1. 数一数，填一填。



半圆形有 () 个

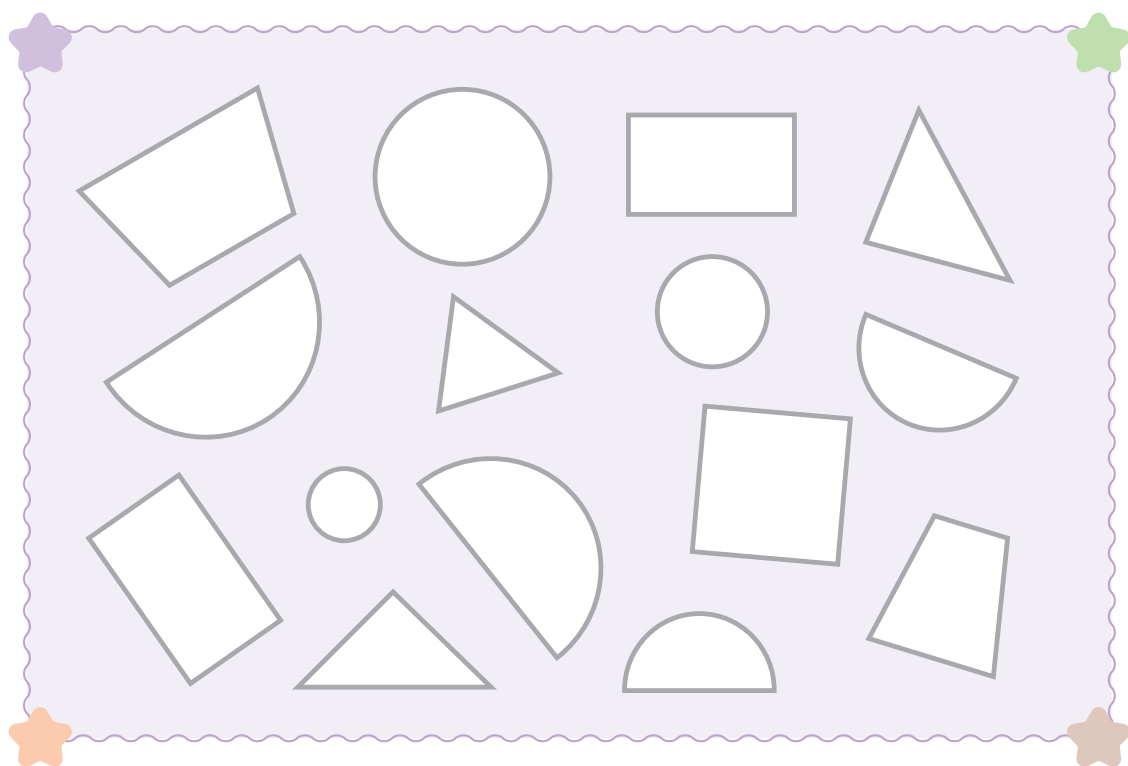


半圆形有 () 个




半圆形有 () 个


2. 给半圆形涂上你喜欢的颜色。



3. 将圆形彩纸对折，使边缘部分完全重合，说一说得到了什么形状。


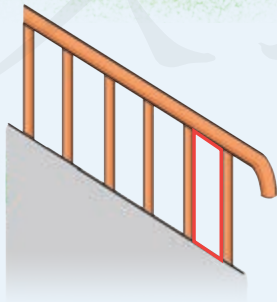
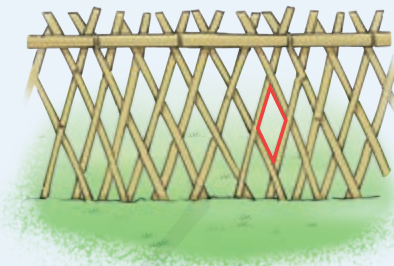
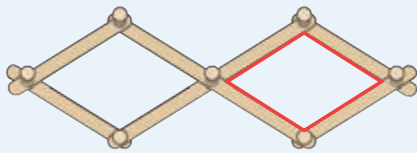


认识平行四边形



平行四边形

★ 这些也是平行四边形





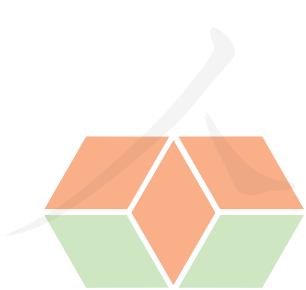
做一做

找一找含有平行四边形的物品。



练一练

数一数，填一填。




平行四边形有 () 个




平行四边形有 () 个


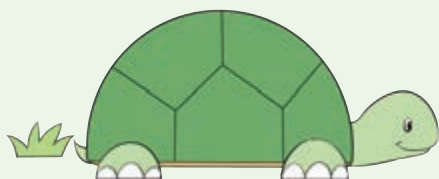
我学会了

1. 给半圆形涂上绿色，给平行四边形涂上红色。

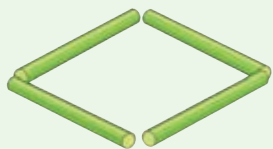


2. 照样子画一画。



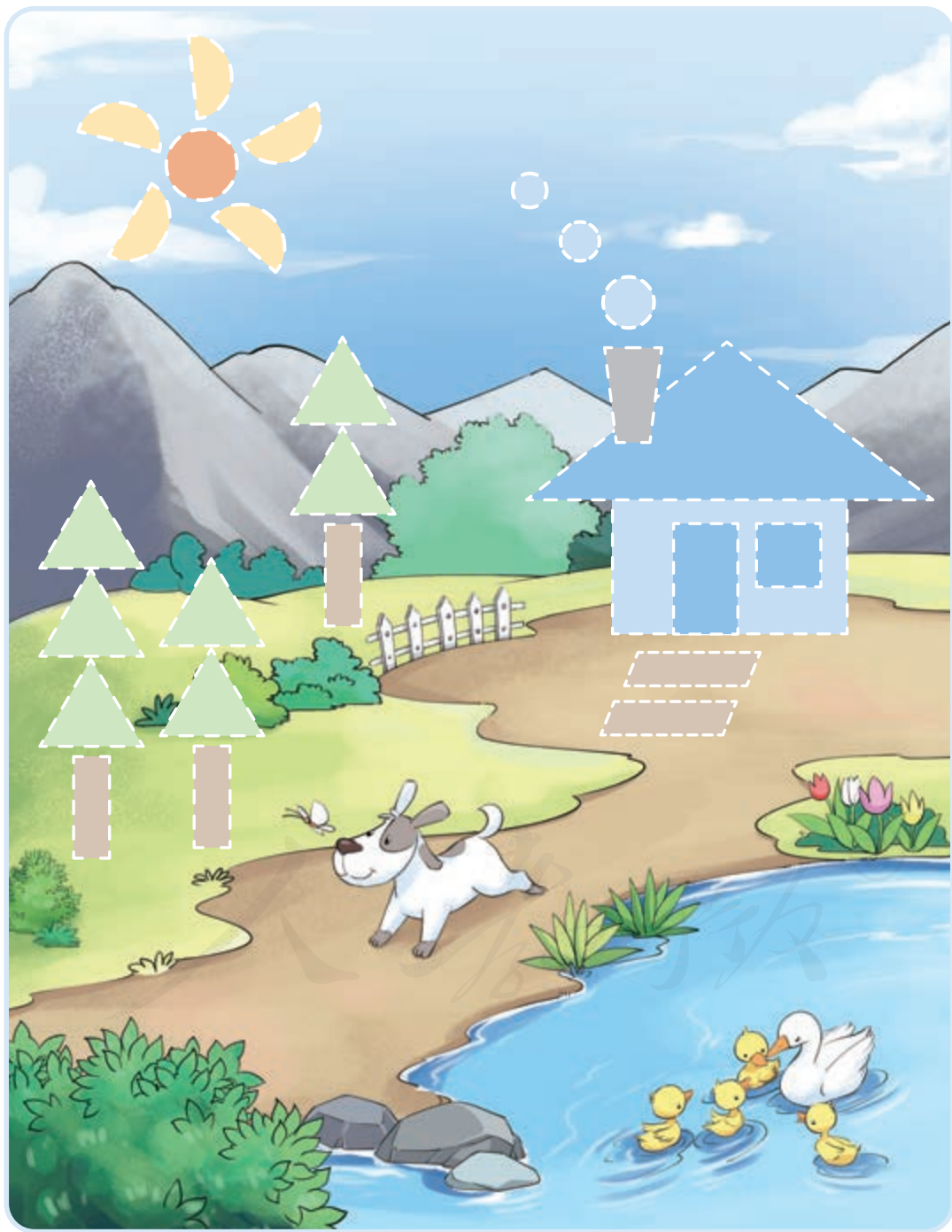


3. 照样子用小棒拼出下面的平行四边形。[®]




综合与实践

贴一贴，用学过的图形完成下面的图画。



试着拼一拼。







20元以内人民币的计算

1.



(1) 买1个  和1个 ，一共需要花多少钱？

$$\square + \square = \square \text{ (元)}$$


(2) 买1盒  比1个  多花几元？

$$\square - \square = \square \text{ (元)}$$

(3) 买1盒 、1套  和1个 ，一共需要花多少钱？

$$\square \bigcirc \square \bigcirc \square = \square \text{ (元)}$$

2.



(1) 贝贝点了1笼包子和1杯豆浆, 一共需要多少元?

$$\square \bigcirc \square = \square \text{ (元)}$$

(2) 妈妈付了15元, 应该找回多少元?

$$\square \bigcirc \square = \square \text{ (元)}$$




(3) 如果请你从上面的早餐中选两样, 你想买哪两样? 一共需要多少元? 说一说可以怎样付钱。

$$\square \bigcirc \square = \square \text{ (元)}$$

3.





我买了1盒  和1盒  ，一共需要多少钱？

我买了1袋  、1盒  和1盒  ，
一共需要多少钱？



我有12元，买了1袋  ，还剩下多少钱？

我有18元，先买了1袋  ，又买了1瓶  ，还剩下多少钱？




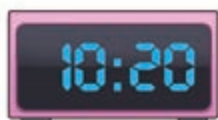




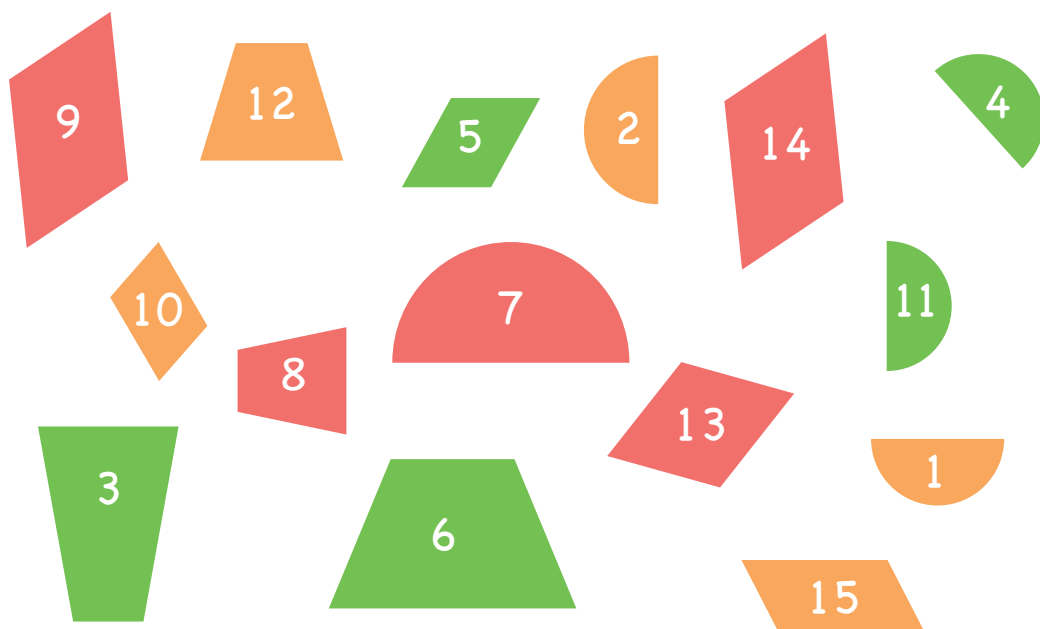
图形的分类



1. 找朋友。






2. 按要求给下面的图形分类。



(1)

颜色	<i>uuu</i>	<i>uuu</i>	<i>uuu</i>
编号			
个数			

(2)

图形			
编号			
个数			

4

总复习

这个学期，你学习了哪些知识呢？

$$12-9=3$$

$$13-4=9$$

$$15-7=8$$

我学习了20以内的退位减法。



我学习了20以内的连加、连减和加减混合运算。

$$3+5+6=14$$

$$15-2-8=5$$

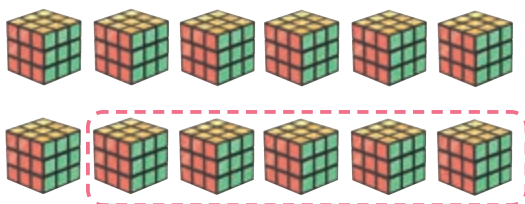
$$8+5-6=7$$




我认识了半圆形和平行四边形。



1. 数一数，填一填。



$$12 - \square = \square$$




$$11 - \square = \square$$




$$14 - 8 = \square$$

$$14 - 6 = \square$$



$$16 - \square = \square$$

$$16 - \square = \square$$



$$4 + 9 = \square$$

$$13 - 4 = \square$$

$$9 + \square = \square$$

$$\square - \square = \square$$

*2. 在○里填上“>”“<”或“=”。

$$15 - 7 \bigcirc 7$$

$$18 - 9 \bigcirc 9$$

$$6 + 6 \bigcirc 13$$

$$17 - 8 \bigcirc 5$$


$$4 + 7 \bigcirc 12$$

$$12 - 4 \bigcirc 8$$

3. 看图完成算式。



$$\square - \square - \square = \square$$






公交车上原来有6人，上来7人，又下去4人，现在车上一共有多少人？

$$\square + \square - \square = \square$$

4. 找一找，数一数。



半圆形有 () 个 平行四边形有 () 个

5. (1) 妈妈给乐乐买了一双袜子  花了8元，一副手套  花了7元，一只口罩  花了2元，妈妈一共花了多少钱？

$$\square + \square + \square = \square$$

(2) 买一桶16元的酸奶  比一盒7元的酸奶  多花多少钱？

$$\square \bigcirc \square = \square$$


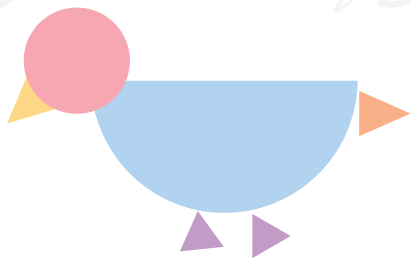
6. 算一算，想一想。



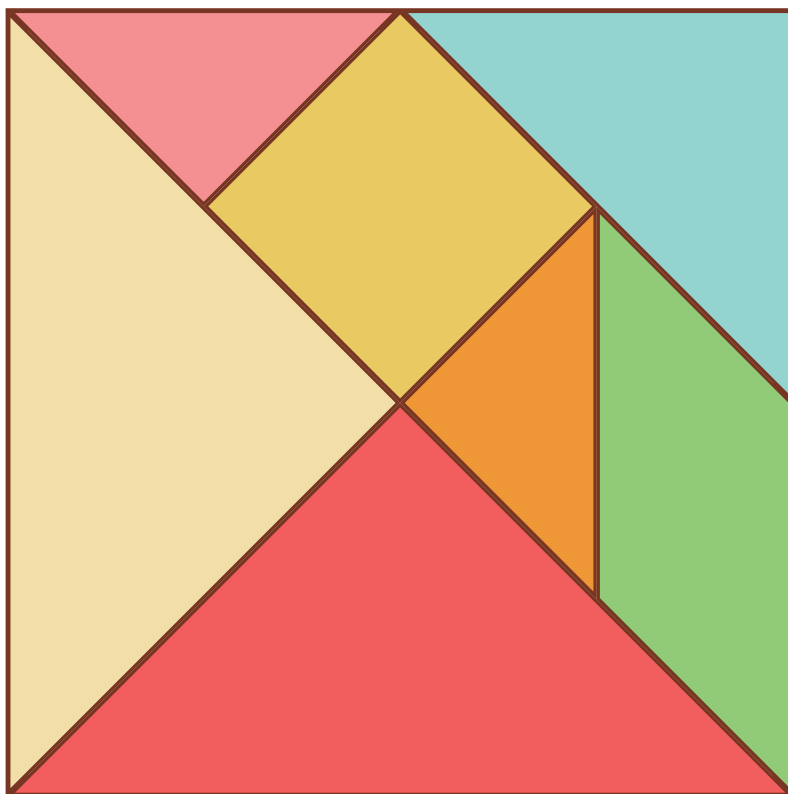
11-9=	11-8=	11-7=	11-6=	11-5=	11-4=	11-3=	11-2=
12-9=	12-8=	12-7=	12-6=	12-5=	12-4=	12-3=	
13-9=	13-8=	13-7=	13-6=	13-5=	13-4=		
14-9=	14-8=	14-7=	14-6=	14-5=			
15-9=	15-8=	15-7=	15-6=				
16-9=	16-8=	16-7=					
17-9=	17-8=						
18-9=							

你发现什么规律了吗？



7. 照样子拼一拼。





后记

本套教科书由人民教育出版社课程教材研究所特殊教育课程教材研究开发中心依据教育部《培智学校义务教育生活数学课程标准（2016年版）》编写，经国家教材委员会专家委员会2021年审核通过。

本套教科书集中反映了培智学校义务教育生活数学教科书编写研究与教学实验的优秀成果，凝聚了参与调查研究、教材编写、教材审查、试教试用各阶段工作的教育专家、学科专家、教研人员以及一线教师的集体智慧。我们感谢所有对教科书的调研、编写、审查、试用等提供过帮助与支持的专家、学者、教研人员和一线教师。

我们真诚地希望全国各地培智学校的教师、学生及家长在使用教科书的过程中提出宝贵意见，并将这些意见和建议及时反馈给我们，以便我们修改与完善。让我们携起手来，共同做好培智学校义务教育教材建设工作！

本书插图绘制：冰河插画。

联系方式

电 话：010-58758527

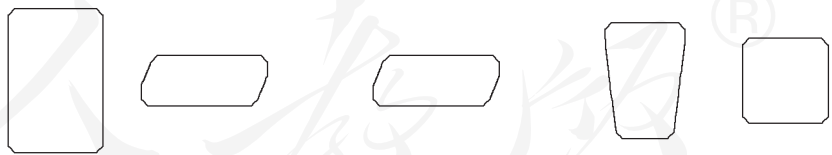
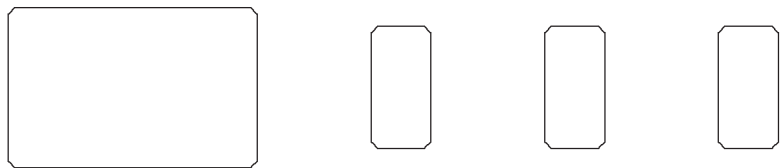
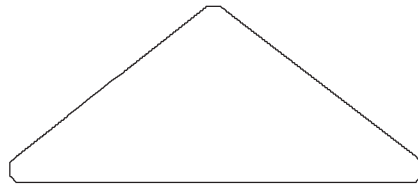
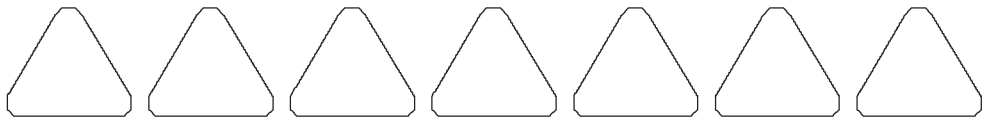
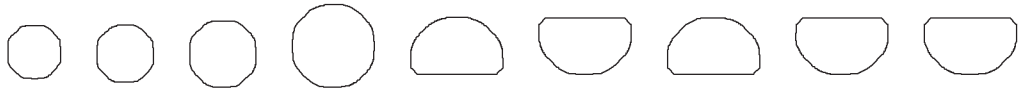
电子邮箱：jcfk@pep.com.cn

人民教育出版社 课程教材研究所
特殊教育课程教材研究开发中心

2021年4月



人教出版



人教数学®

培智学校义务教育实验教科书

生活数学

五年级
上册



SHENHUO SHUXUE

人教版®



绿色印刷产品



定价：0.00 元

人民教育出版社